



ちがいはいくつ

どちらがおいしい(しきも かきましょう)？

ねん


くみ なまえ

りんごと みかんがあります。どちらがなんこ おおいですか。しきを かいて こたえましょう。




しき $4 - 2 = 2$

こたえ みかん が 2 こ おおい




しき $8 - 2 = 6$

こたえ みかん が 6 こ おおい



しき $9 - 4 = 5$

こたえ りんご が 5 こ おおい



しき $9 - 5 = 4$

こたえ みかん が 4 こ おおい